

物流码



QFG0001261

乐



历史
二轮专题

作业手册

看遍浮沉衰

无边近

来

???

THE
SEC
QUAN

of
the
East

???



绿色印刷产品

服务热线: 4000-555-100



责任编辑: 徐 晶
美术编辑: 张 帆
封面设计: 唐思羽

ISBN 978-7-5717-0901-3

0 2 >



9 787571 1709013

定价: 28.87元(含“特色专项”)

云发改价格审[2024]022

CONTENTS

专题限时练（一）	专题一 国家治理——政权运行与社会治理	115
专题限时练（二）	专题二 经国济民——经济发展与经济政策	118
专题限时练（三）	专题三 文化自信——中华优秀传统文化.....	121
专题限时练（四）	专题四 道路自信——从早期现代化到中国式现代化	124
专题限时练（五）	专题五 制度自信——中国特色社会主义制度	127
专题限时练（六）	专题六 理论自信——从近代思想解放到马克思主义中国化	130
专题限时练（七）	专题七 中共党史——自我革命与创新	133
综合集训练（一）	（范围：中国史）	136
专题限时练（八）	专题八 古代文明——文明发展与文化交流	140
专题限时练（九）	专题九 资本主义——产生、扩张与不断调整.....	143
专题限时练（十）	专题十 社会主义——从理论到实践与变革	146
专题限时练（十一）	专题十一 民族解放——殖民体系与亚非拉民族民主运动	149
专题限时练（十二）	专题十二 国际关系——世界大战与国际格局	152
专项突破练	（范围：史学理论）	155
综合集训练（二）	（范围：中国史和世界史）	157

一、选择题

1. 《礼记·王制》中记载,“中国戎夷,五方之民,皆有其性也,不可推移”,将少数民族情况纳入典籍记载中;“中国人”这个名词第一次出现是在《史记》中,“足下中国人,亲戚昆弟坟墓在真定”“王年少,太后中国人也”;《史记》里将黄帝作为诸多民族的共同祖先。这反映出 ()

- A. 同源共祖观念的发展
- B. 多元一体格局的出现
- C. 中央集权的加强
- D. 中原礼制文化的扩展

2. 盘庚之政的实施,使越来越多的诸侯归附于商王朝的统治之下。此后,随着商王祖甲改制的进行,此后的几代商王均竭力扩大王权,这极大地限制了内外服制在国家事务中的影响力。这些现象表明,盘庚之后的商代 ()

- A. 实现了中央对地方的垂直管理
- B. 内外服制达到鼎盛
- C. 王室对地方统治力度有所加强
- D. 社会改革蔚然成风

3. 《史记》载:“秦之法,任(保举)人而所任不善者,各以其罪罪之。”汉承秦制,汉明帝诏令:“选举不实,邪佞未去,权门请托,残吏放手……有司明奏罪名,并正举者。”汉元帝时,富平侯张勃就因选举不实,被削食邑二百户,死后被谥为“缪”,耻辱延及后代子孙。这些做法 ()

- A. 有助于监察体系的完善
- B. 意在保证被荐举官吏的质量
- C. 抑制了王国势力的膨胀
- D. 满足了政府对人才的渴望

4. 《文献通考》载:东汉刺史拥有庞大的幕僚机构,其中簿曹从事史主钱谷簿书,兵曹从事史主兵马,功曹书佐主选用。这说明东汉时期,刺史 ()

- A. 掌握了管理地方的实权
- B. 扩大了对地方的监察权
- C. 防止了地方割据的形成
- D. 变为地方最高行政机构

5. 两汉时期,里内一般设有里社,人们通过社祭祀求农业生产风调雨顺、祛病消灾。社祭时,乡里之民无

论男女老幼都要参加。作为福佑一社百姓的社神,更是受到乡里民众的普遍信奉和虔诚祭祀。这反映了汉代里社 ()

- ①有利于强化中央集权 ②加速了儒家思想正统化
- ③受封建小农经济影响 ④根植于悠久的历史传统
- A. ①② B. ①③
- C. ②③ D. ②④

6. 据下表中两则史料可知,汉代 ()

史料	出处
徐闻、合浦船行可五月,有都元国;又船行可四月,有邑卢没国;又船行可二十余日,有谿离国;步行可十余日,有夫甘都卢国。自夫甘都卢国船行可二月余,有黄支国……自武帝以来皆献见	《汉书·地理志》
(雷州)徐闻县,本汉旧县……汉置左右侯官,在县南七里,积货物于此,备其所求,与交易有利	《元和郡县图志》

- A. 对外政策比较开放
- B. 海路是中外交流主要通道
- C. 地方制度有所变革
- D. 加强了对岭南地区的控制

7. 汉武帝去世后,继位的汉昭帝年仅8岁,外戚霍光以大将军身份秉政,领尚书事。西汉后期,如外戚王莽等,也都是以大将军或骠骑将军、车骑将军、卫将军等身份执掌中央大权。上述现象反映出 ()

- A. 军功阶层长期把持朝政
- B. 汉匈之间战争不断
- C. 中央行政中枢权力调整
- D. 外戚、宦官交替执掌政权

8. 某学者认为,“中国宰相制度,代不相同,然相因而变,有其趋势,亦有其法则。……法则维何? 君主近臣,代起执政,品位既高,退居闲曹是也”。能印证这一观点的是 ()

- A. 秦朝设监御史纠察朝廷百官
- B. 东汉初年,三公权力日益强化
- C. 汉武帝时尚书令的作用开始提升
- D. 魏晋南北朝时期三省制走向成熟

9. 有学者指出,汉魏晋政权的更迭,皆是以自上而下的禅让方式,而非由自下而上的暴力手段完成的,成为后世朝代更迭效仿的标准样式。这一历史现象说明当时 ()

- A. 豪强士族力量的强大
- B. 少数民族力量进入中原
- C. 皇权专制进一步加强
- D. 自耕农经济的壮大趋势

10. 自汉武帝以来,汉朝实行经义决狱,后又兴起以经注律之风。《晋书·刑法志》载:“叔孙宣、郭令卿、马融、郑玄诸儒章句,十有余家,家数十万言。凡断罪所当由用者,合二万六千二百七十二条,七百七十三万二千二百余言。言数益繁,览者益难。”魏明帝于是下诏:“但用郑氏章句,不得杂用余家。”上述现象 ()

- A. 适应了律令儒家化的需要
- B. 奠定了中国人治社会底蕴
- C. 开启了法治和德治的结合
- D. 体现了中华法系的优越性

11. 下表为四个时期门下省诸局情况表。

时间	门下省诸局					
梁	公车	太官	太医	骅骝厩	—	—
北齐	主衣	尚食	尚药	殿中	斋帅	左右
隋文帝	御府	尚食	尚药	殿内	城门	符玺
隋炀帝	符玺	—	—	—	—	—

注:隋炀帝时,六局仅留符玺局,其余都被移出门下省,另外组成殿内省负责皇帝生活起居。

上述材料突出反映的主题是 ()

- A. 中央机构趋向专门化
- B. 古代社会生活进步
- C. 士族的社会地位降低
- D. 国家逐渐走向统一

12. 唐代的科举考试分为“解试”与“省试”两级。解试由州郡政府主持,当地士子自由报考,凡考试通过的士子,便可取得“解额”,然后凭此参加尚书省举行的省试,省试若及第,便具备了授官的资质。这 ()

- A. 有利于激发社会的向学之风
- B. 继承了任人唯贤的政治传统
- C. 杜绝了科场舞弊现象的发生
- D. 体现了德才兼备的用人思想

13. 唐太宗曾经想要征未满十八岁的中男当兵,魏徵坚决不同意,四次拒绝在敕书上签字。武则天当权时期,宰相刘祜之受诬告后拒认不经中书省和门下省的皇帝敕书,结果被赐死。这两则事例说明 ()

- A. 唐朝中央决策和行政体系日臻完备
- B. 制度运行效果离不开特定政治环境
- C. 隋唐时期的政治制度发生重大变革
- D. 皇权相权之争是封建社会主要矛盾

14. 唐时,进奏院是各藩镇自行设置的驻京办事之所,并不属于朝廷的正式建制,因此其职能也主要表现在为地方服务方面。宋时,进奏院仅为传递公文纯文书机构。这一变化的目的在于 ()

- A. 剥夺藩镇的财政权
- B. 加速区域信息交流
- C. 强化对地方的控制
- D. 改变中枢机构职能

15. 元朝统治者决议“三国各与正统,各系其年号”,确定了宋、辽、金三朝独立成史的原则,修正了南北朝诸史修撰时出现的“南书谓北为‘索虏’,北书指南为‘岛夷’”的弊病。这反映出元朝 ()

- A. 强化了“大一统”的政治意识
- B. 规划了边疆治理
- C. 开创了为少数民族修史先例
- D. 强化了中央集权

16. 清朝接受并发展了“大一统”思想:它抽去了传统理论中“华夷之辨”的内容,将传统“大一统”观念改造为四海之内共尊一君的君主专制“大一统”观念;形成以推崇“大一统”政权为核心、以政权承绪关系为主线、以取消华夷之别为特征的正统论,并将其贯彻于历史评断之中。这一做法 ()

- A. 拓展了清王朝疆域范围
- B. 实现了境内民族间的平等
- C. 推动了封建制度的发展
- D. 巩固了统一的多民族国家

二、非选择题

17. (16分)阅读材料,完成下列要求。

材料一 西周是宗族统治的鼎盛时期,宗族体系十分发达,整个社会如同一个大家庭,通过分封制的形式建立起来,以宗法制为纽带。天子的权力是上天授予的,诸侯国是由天子分封的,卿大夫的采邑则是由诸侯分封的。天子、诸侯、卿大夫之间有天然的血缘联系和政治婚姻关系,既是亲戚又是君臣,自然就

形成了下级贵族臣服于上级贵族、全体贵族臣服于天子的政治隶属关系,表现出鲜明的等级色彩。

——摘编自雷海宗《中国史纲要》

材料二 忽必烈进入中原,建立元朝,以中书省分驻地方,称行中书省。不久,行中书省便成为固定行政区。行省“凡钱粮、兵甲、屯种、漕运、军国重事,无不领之”。各省设有左右丞相、平章政事、左右丞、参知政事等为正副长官,又有郎中、员外郎、都事等分管省内各种事务。丞相、平章政事大多由蒙古亲王充当,权力极大,除中央直接任命的官吏以外,有权自选官吏。各省还设有行枢密院和行御史台分管军事和监察。行省之下设路、府、州、县。

——摘编自韦庆远、柏桦《中国政治制度史》

(1)根据材料一并结合所学知识,概括西周政治制度的主要特点,并简析西周政治制度推行的意义。(8分)

(2)根据材料一、二,指出元朝地方体制较之西周的不同,并结合所学知识说明导致不同的原因。(8分)

18. (12分)阅读材料,完成下列要求。

材料 从人类社会的发展历史考察,为了维持基本的社会秩序,人们往往通过三种方式对社会进行控制,从而实现治理的目标:第一种是神学的宗教控制,即神治;第二种是宗法的道德控制,即人治;第三种是理性的法律控制,即法治。在以上治理模式中,神治往往与人治、法治相伴始终。

——摘编自李静《社会转型期稳定问题
历史回溯与当代审视》

根据材料并结合所学知识,就材料整体或其中任意一点拟定一个论题,并予以阐述。(要求:论题明确,史论结合,逻辑清晰。)(12分)

一、选择题

1. 仰韶文化早期,通过采集获得的野生植物仍然是重要食物来源,但农耕生产的比重逐渐增强,多数考古遗址发现的农作物遗存大多为粟和黍两种,是典型北方旱作农业,只有淮河上游的舞阳贾湖遗址中发现了丰富的稻作农业遗存。到了仰韶文化中晚期,不少地方的考古遗址中都发现了稻作遗存。这一变化 ()

- A. 体现了精耕细作的特征
- B. 表明了早期农业发展
- C. 出现了早期国家的雏形
- D. 形成了南稻北粟格局

2. 《周礼》载,周朝的市场管理设置司市、质人、廛人、泉府等官员。司市是市场管理的最高长官,质人负责估定物价、检验买卖凭证和契约、统一度量,廛人负责税收、罚款和收购滞销产品,泉府负责买卖滞销产品和赊贷。这表明当时 ()

- A. “工商食官”政策逐步被取消
- B. 商人社会地位明显提高
- C. 官府对市场规律有所认识
- D. 市场管理制度相对完善

3. 邓通受汉文帝宠信,获得蜀郡严道县的铜山,遂铸铜钱(如下图)。其钱光泽亮,分量足,厚薄匀,质地纯,因而流布天下。邓通钱的流行 ()



- A. 改变了汉初经济思想
- B. 冲击了国家金融秩序
- C. 体现了盐铁官营政策
- D. 中兴了秦朝货币制度

4. 下图为山东滕州黄家岭出土的汉画像石拓片。在拓片中,上格为“迎谒”和“锻冶”图,下格为包括耕、耨、种的综合农耕场面。该拓片可以用来说明汉代 ()



- A. 土地兼并问题长期存在
- B. 豪强地主势力的强盛

- C. 不同阶层间矛盾的尖锐化
- D. 政府经济政策的变化

5. 下表是关于我国最早的水利工程之一的芍陂(在今安徽寿县)的史料记载。据此可知该工程 ()

出处	史料
《晋书》	刘裕敢怀奸计,屯聚芍陂,有扰边之志,宜遣烧之,以散其众谋
《晋书》	元帝(司马睿)遣甘卓、陶侃等北伐,默劝侃讽喻百姓,共修芍陂,以供军用
《宋书》	高祖(刘裕)将伐羌,先遣修之复芍陂,起田数千顷

- A. 与军事行动密切相关
- B. 是宋代开始修建的
- C. 得到了百姓大力支持
- D. 加速经济重心南移

6. 魏晋南北朝时期,北方经济与汉代相比仍然在不断发展,并非处于停滞和衰退状态。精耕细作的农业在耕作工具与耕作技术上不断取得突破,畜牧业成分与之前相比大幅增加。这种变化 ()

- A. 反映了社会动乱不会影响经济发展
- B. 得益于北方人民的南迁
- C. 延缓了北方政权的频繁更替
- D. 促进封建国家再次统一

7. 唐《杂令》规定,公私借贷可自行签订契约,官府不干涉,但利息总量不得超过本金一倍。唐敬宗发布敕文,对“出利过本两倍”的私债,官府不负责追讨超过法定利率的债务。上述举措旨在 ()

- A. 维护地主阶级利益
- B. 规范民间契约行为
- C. 推动商品经济发展
- D. 限制盘剥、稳定秩序

8. 唐代宗即位之初,规定乾元重宝、重棱乾元钱和开元通宝以同等价格流通,“其后民间乾元、重棱二钱(相比于开元通宝实际价值更高)铸为器,不复出矣”,大历七年(772年),禁铸铜器;唐德宗贞元年间,“诸州府公私诸色铸造铜器、杂物等。伏以国家钱少,损失多门”,政府下令除铸造铜镜外,“一切禁断”。这些政策出台的重要原因是 ()

- A. 唐朝政府财政已入不敷出
- B. 铸币原料严重短缺
- C. 官私手工业存在技术差距
- D. 铜钱流通范围有限

9. 下表是宋代诗人吟咏乡村田园生活的相关诗句。从诗句中能够得出的结论是 ()

杨万里	却破麦田秧晚稻,未散水牯卧斜晖
陈造	半月天晴一夜雨,前日麦地皆青秧
曹勋	隔岁种成麦,起麦秧稻田
陆游	处处稻分秧,家家麦上场

- A. 土地资源的利用率提高
- B. 理学思想影响文学创作
- C. 农业生产工具有重大革新
- D. 农产品商品化程度提高

10. 两宋之交的农学家陈旉说,湖州安吉县农户“唯藉蚕办生事”。据南宋洪迈记述,湖州地区的某些村落中,已不乏“递年以桑蚕为业”的农户。苏州太湖洞庭山方圆几百里,“多种柑橘、桑麻,糊口之物,尽仰商贩”。材料意在说明宋代江浙地区 ()

- A. 已出现农业专业化经营
- B. 农业生产结构多样化
- C. 长途贩运贸易比较发达
- D. 自然经济走向了瓦解

11. 宋代管理海上对外贸易的机构为市舶司。宋元之际,著名的历史学家马端临在《文献通考》中说:“旧制虽有市舶司,多州郡兼领;元丰中,始令转运司兼提举,而州郡不复预矣;后专置提举,而转运亦不复预矣。”对宋代市舶司设置方式变革的原因,表述正确的是 ()

- ①宋代商品经济发展 ②陆上丝绸之路衰落 ③实行崇文抑武方针 ④政府重视海外贸易
- A. ①②③
 - B. ①②④
 - C. ①③④
 - D. ②③④

12. 下表为现代学者经考证后编制的表格,这一成果可以说明 ()

明末清初私人海外贸易利润总额和利润率

航线	年均商船数	平均利润率	年均贸易总额(两)	利润额(两)
日本	40.7 艘	250%	217 万	155 万
东南亚、西亚	91 艘	150%	1430 万	787 万
合计	131.7 艘	—	1647 万	942 万

- A. 海上丝路的鼎盛
- B. “海禁”政策的影响
- C. 殖民扩张的后果
- D. 朝贡贸易的弊端

13. 王世懋(1536—1588 年)所著《饶南九三府图说》记载,“景德镇……陶厂所在,商工辐辏,亡命作奸,莫可穷诘。工兴,则挟佣以争;工毕,则鸟兽散而为盗”。

据此可知,当时 ()

- A. 雇佣生产增加社会流动性
- B. 南方流民问题日趋严重
- C. 海外瓷器的需求不断扩大
- D. 抑商政策逐渐失去效用

14. 徐弘祖曾说,在其父亲去世后二十年间,他的母亲独支门户,勤俭持家,“母无他好,好习田妇织”。“特以精好闻”的徐家织布“轻弱如蝉翼,市者辄能辨识之”。据此可知,徐母得以独立维持生计的时代背景是 ()

- A. 币制与赋役制度的变化
- B. 经营方式出现革新
- C. 自然经济结构逐步解体
- D. 长途贩运贸易兴盛

15. 清人洪亮吉说:“今……为农者十倍于前而田不加增,为商贾者十倍于前而货不加增,为士者十倍于前而佣书授徒之馆不加增……于是士农工贾各减其值以求售,布帛粟米又各昂其价以出市。”这反映出 ()

- A. 商人囤货导致市场混乱
- B. 土地兼并威胁农业生产
- C. 清朝社会生产陷入停顿
- D. 人口压力影响社会发展

16. 明清时期,广东佛山镇“俗善鼓铸”,铁器制造业规模宏大,铸器精良,远近闻名,仅炒铁作坊就有数十个,每一作坊有“数十砵,一砵有十余人”,从事炒铁的工人加在一起“人有数千”,皆系雇佣而来。这从侧面反映出当时 ()

- A. 江南市镇生产的专业化
- B. 工商业联合生产并形成制铁行业垄断
- C. 资本主义生产关系发达
- D. 民营手工业劳动力商品化趋势明显

二、非选择题

17. (18 分)阅读材料,完成下列要求。

材料

中国古代农业生产效率与代表性农业生产水平

朝代	南北综合亩产土地生产效率(斤/亩)	增长指数(以汉为基数)	主要产粮区亩产(汉小石/汉小亩)	增长指数(以汉为基数)	劳动力年产原粮(斤)	增长指数(以汉为基数)
战国中晚期	216	92.8	2.31	81.9	3318	92
秦汉	264	100	2.82	100	3578	100

(续表)

朝代	南北综合亩产土地生产效率(斤/亩)	增长指数(以汉为基数)	主要产粮区亩产(汉小石/汉小亩)	增长指数(以汉为基数)	劳动力年产原粮(斤)	增长指数(以汉为基数)
东晋南朝	257	97.16	2.74	97.16	—	—
北朝	257.6	97.52	2.75	97.52	—	—
唐	334	126.6	3.57	126.6	4524	126
宋	309	117	4.03	142.91	4175	116
元	338	128	4.03	142.91	—	—
明	346	131.9	4.21	149.29	4027	112
清前中期	367	139.0	4.52	160.28	2262	63

——摘编自朱珠《明清时期传统农业技术的非生态转向》

(1)根据材料并结合所学知识,指出中国古代农业生产效率的发展趋势,并简析其原因。(10分)

(2)根据材料并结合所学知识,任选表中某一时段,围绕“农业生产效率与社会发展”展开论述。(要求:史论结合,论证充分,表述清晰。)(8分)

18. (20分)货币在经济发展历程中的作用越来越大。阅读材料,完成下列要求。

材料一 又,民用钱,郡县不同:或用轻钱,百加若干;或用重钱,平称不受。法钱不立,吏急而壹之乎,则大为烦苛,而力不能胜;纵而弗呵乎,则市肆异用,钱文大乱。苟非其术,何乡而可哉!……于是悉禁郡国毋铸钱,专令上林三官铸。钱既多,而令天下非三官钱不得行,诸郡国前所铸钱皆废销之,输入其铜三官。而民之铸钱益少,计其费不能相当,唯真工大奸乃盗为之。

——摘自[东汉]班固《汉书·食货志》

材料二 盖自国初以来有银禁,恐其或阋钱钞也,而钱之用不出于闽、广,宣德、正统以后,钱始用于西北,自天顺、成化以来,钞之用益微矣。……窃以为今日制用之法,莫若以银与钱钞相权而行,每银一分易钱十文,新制之钞每贯易钱十文,四角完全未中折者每贯易钱五文,中折者三文,昏烂而有一贯字者一文,通诏天下以为定制,而严立擅自加减之罪,虽物生有丰歉、货直有贵贱,而银与钱钞交易之数一定而永不易,行之百世,通之万方。

——摘自丘浚(1421—1495年)《大学衍义补》

材料三 长时间以来,美元霸权地位的维持离不开其高度发达的金融市场,因此金融发展水平的提升将会成为人民币国际化的关键一步,“一带一路”倡议的推进为此提供了契机。中国金融机构为“一带一路”倡议提供了大量的融资支持,据《中国“一带一路”贸易投资发展报告2021》公布的数据,截至2019年年末,已有11家中资银行在29个“一带一路”沿线国家设立了近80家一级分支机构。亚洲基础设施投资银行(亚投行)更是树立了国际多边合作的新典范。

——摘自陈果、姚皓天《人民币国际化:背景、机遇与投资机会》

(1)根据材料一,概括汉武帝时期推行的货币政策及其背景;结合所学,写出“三官钱”所指钱币的名称。(6分)

(2)根据材料二,概括丘浚针对当时货币制度所提出的建议及其依据。结合唐朝至明朝赋税制度的相关史实,概述这一时期白银在国民经济中地位的变化。(8分)

(3)根据材料三,结合所学,简析“人民币国际化”的推动因素,并用一句话指出亚投行设立的现实意义。(6分)

一、选择题

1. 距今约 5500 年的安徽凌家滩文化与红山文化、良渚文化并称为“中国史前三大玉文化中心”，该遗址发掘出土玉器、边角料和玉料等 1100 余件，石器 500 余件，从中可见玉石器加工技术有切割、打磨、镂雕、钻孔、抛光等，下图的玉龙是其玉石器的代表。这些玉石器 ()



- A. 代表了世界玉器制作的最高水平
- B. 反映出不同区域文明的密切交流
- C. 标志着国家初始形态的基本具备
- D. 为研究中华文明提供了实物例证

2. 考古发现，距今约 8000 年的湖南洪江高庙遗址出土的陶器纹饰图案中，“太阳被描绘为有着硕大的头、外展双手且连着身躯的人格化的神；凤鸟随处可见，大头长喙，伸展着宽大的翅膀，负载着太阳或獠牙兽；怪诞的獠牙兽，或乘于凤鸟的翅膀，或张展双翅，凭借高耸的天梯和山峰飞向天界”。上述考古发现 ()

- A. 表明长江流域出现了早期国家
- B. 印证了母系氏族公社社会风貌
- C. 折射了先民对自然的虔诚崇拜
- D. 凸显万邦时代公共秩序的构建

3. 殷商统治者自称“受命于天”，把自己的统治假托为“上帝”的命令。周人灭殷后吸取殷亡的教训，认为“天命靡常”，即“天命”不是固定不变的，能否享有“天命”，取决于君主是否有良好的道德品质，能否“保民”。这一思想变化反映出 ()

- A. 原始民主政治的影响
- B. 民本思想的萌发
- C. 统治者道德修养提升
- D. 神权政治的衰微

4. 《韩非子·五蠹》写道：“今有构木钻燧(钻木取火)于夏后氏之世者，必为鲧、禹笑矣；有决渎(疏浚河道，治水)于殷周之世者，必为汤、武笑矣。然则今有美尧、舜、汤、武、禹之道于当今之世者，必为新圣笑矣。”对上述言论理解正确的是 ()

- ①体现了历史是发展变化的 ②反映了民本主义的

理论主张 ③以儒家作为论战和批判的对象 ④反对因循守旧和拘泥于传统

- A. ①②③ B. ①②④
- C. ①③④ D. ②③④

5. 就汉代儒学来看，西汉以经世致用为宗旨，希望开创大同世界；东汉完全以考证训诂为学问，对一两个字眼便可以有烦琐的考订。这一变化 ()

- A. 巩固了儒学的正统地位
- B. 反映出东汉政治统治的腐朽
- C. 丰富了儒学的思想内涵
- D. 折射出社会发展活力的衰退

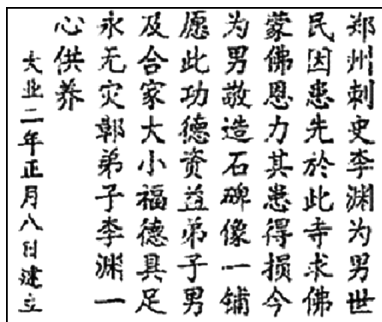
6. 魏晋时期，嵇康认为音乐是客观存在的音响，哀乐(哀怒喜乐)是人们的精神被触动后产生的感情，反对现实中“礼乐刑政”并举的政治功能。这体现其 ()

- A. 强调音乐移风易俗的属性
- B. 追求无为而治的政治主张
- C. 崇尚思想自由的生活态度
- D. 倡导唯物主义的哲学思想

7. 有学者说：“自张骞‘凿空西域’以来，人们历经集市→驿站→都城→国家→区域→丝绸之路地带等，不断拓展陆上丝绸之路往来空间；郑和‘七下西洋’带动人们历经互市→码头→港口→都城→国家→海域→丝绸之路地带等，不断拓展海上丝绸之路交往空间……形成由‘信息、思想、价值、规范、认同等文化资源的交流与吸收’的‘欲予欲取的文明进程’。”该学者意在强调 ()

- A. 丝绸之路历史彰显中华文明守正创新精神
- B. 古代中国注重将“海禁”与朝贡贸易相结合
- C. 古代中外交往着眼于开阔民众的眼界
- D. 古代中外贸易旨在迎合国际形势的变化

8. 下图为郑州博物馆所藏隋大业二年《李渊陕西户县草堂寺还愿碑》碑文。据此可知，当时 ()



- A. 皇室利用宗教加强统治
- B. 权贵阶层精通佛学
- C. 儒学正统地位受到冲击
- D. 佛教具备世俗功用

9. 朱熹说：“仁义根于人心之固有，天理之公也；利心生于物我之相形，人欲之私也。循天理，则不求利而自无不利；徇人欲，则求利未得而害已随之。”他又说，“利者，义之和”“凡事处制得合宜，利便随之”“圣人岂不言利”。这说明朱熹 ()

- A. 坚持传统义利对立观念
- B. 提出“存天理，灭人欲”思想
- C. 主张抑制个人过度欲望
- D. 构建了新的经济政治伦理观

10. 南宋学者陈亮认为，“夫盈宇宙者无非物”“舍天地则无以为道”。他主张“义利双行，王霸并用”，并痛斥那些“自以为得正心诚意之学者，皆风痹不知痛痒之人也”。陈亮的这些观点 ()

- A. 继承了道家“无为而治”的思想
- B. 直指程朱理学空谈心性的弊端
- C. 呼应了“宇宙便是吾心”的理念
- D. 体现了广大士人阶层的义利观

11. 日本史书记载：“渤海国大使乌孝慎新贡《长庆宣明历经》，云是大唐新用经也。”历学家真野麻吕试用唐宣明历之后，建议推广使用。861年，日本宣布停旧历，改用宣明历。这体现了 ()

- A. 中日文化交流的频繁
- B. 周边国家全盘吸收唐代文化
- C. 中华先进文化的辐射
- D. 日本大化改新推动历法变革

12. 黄宗羲曾评述说：“古者天下之人爱戴其君，比之如父，拟之如天，诚不为过也。今也天下之人怨恶其君，视之如寇仇，名之为独夫，固其所也。”其意在 ()

- A. 宣扬君权神授观念
- B. 强调回归“小国寡民”
- C. 抨击封建君主专制
- D. 坚持社会契约至上

13. 明清之际，进步思想家如顾炎武、黄宗羲、王夫之、颜元等，或侧重经学，或侧重史学，或侧重哲学，但均是经世实学思潮的提倡者和践行者。其学术背景是 ()

- A. 西学东渐逐渐加深
- B. 程朱理学体系烦琐

- C. 陆王心学愈发空疏
- D. 三教合一成为现实

14. “唐宋派”是明嘉靖年间著名的文学流派，早期创作多为应制酬唱之作，后期多创作包括“东南海寇出没，于国家虽为疥癣，而百姓则不堪荼毒”“誓清万里寇，敢惮一身危”等内容的诗文。这一变化体现了该流派 ()

- A. 援经议政的理念
- B. 批判专制的勇气
- C. 格物致知的追求
- D. 经世济民的情怀

15. 17世纪末至18世纪，日本据《农政全书》编写了《救荒本草》《野菜谱》《甘薯记》。1735年，法国《中华帝国全志》出版，书中含有《农政全书》的部分内容，1738年，该书英文译本在伦敦出版。对此解读正确的是 ()

- A. 当时中国科技继续保持世界领先
- B. 当时的中国短暂恢复了对外开放传统
- C. 外国借助中国文化进行社会革新
- D. 《农政全书》集中国传统农技之大成

16. 神农是古代中国传说中的三皇五帝之一，中国人奉其为农神和药神。12世纪以后，神农信仰随着商人、移民传至日本，并在17世纪到19世纪的德川时代达到高峰。神农受到医师、药商、儒者的崇信以及幕府将军、地方藩主的支持，神农信仰与神道及佛教混同。由此可见 ()

- A. 文化对立和冲突
- B. 文化互动与转化
- C. 文化压迫与接纳
- D. 文化殖民与反馈

二、非选择题

17. (16分)阅读材料，完成下列要求。

材料 秦汉大一统帝国建立后直至晚清时期，“天下观”在实际操作中仍然是把中原王朝看作“一个文化共同体，而不是一个政治疆域，更非一个种族疆域”。古代中国的天下观崇尚的是仁、德、礼等文化价值观念，所要实现的是协和万邦的天下秩序。……良好的商业航海气氛和城邦政治孕育了古希腊人朴素的世界主义观念，斯多葛派最先提出了“世界大同主义”的观念，古希腊哲学家德谟克利特曾言：“全世界都是我的故乡。”古罗马帝国亦产生了一种帝国精神，即对武力征服、对外开拓、帝国一统的追求。

——摘编自侯毅、吴昊《论中国“天下观”与西方“世界主义”》

(续表)

(1)根据材料并结合所学,概括古代中国和古代西方“天下观”不同。(4分)

出处	内容
《宋史·舆服志》	绍兴五年,高宗谓辅臣曰:“金翠为妇人服饰,不惟靡货害物,而侈靡之习,实关风化……宜申严禁”

——摘编自张玲《中国古代服饰的文化符号内涵及制度规范》等

材料二 明代的“服妖”分为衣冠复古、奢侈僭越、男女混装和习俗禁忌四个类别。衣冠复古,即穿戴模仿前朝服饰,包括元朝遗风和之前其他朝代的服饰;奢侈僭越,即以下僭上,违制使用贵重饰品和贵族服饰;男女混装,即女着男装、男着女装;习俗禁忌,即与传统社会认知相违背的服饰或服饰行为,如上层人士穿戴低贱之人服饰。

——整编自赵梦菲《明代“服妖”服饰现象研究》

(2)根据材料并结合所学,分析中西观念差异的原因。(12分)

(1)根据材料一并结合所学,指出中国古代服饰文化的内涵,并简要进行说明。(9分)

18. (15分)中国古代服饰有着丰富的文化内涵,是中华民族的文化符号之一。阅读材料,完成下列要求。

材料一 中国古代社会各阶层的着装有严格规定。下表是中国古代文献中有关服饰规范的部分内容。

出处	内容
《礼记·深衣篇》	上衣用布四幅,象征一年有四季;下裳用布十二幅,象征一年有十二月;袖口圆弧、领子方正,象征公正无私;背缝垂直,象征义理正直
《新唐书·车服志》	唐高宗时对官服的规定:三品以上袍衫紫色,四品袍深绯,五品袍浅绯,六品袍深绿,七品袍浅绿,八品袍深青,九品袍浅青

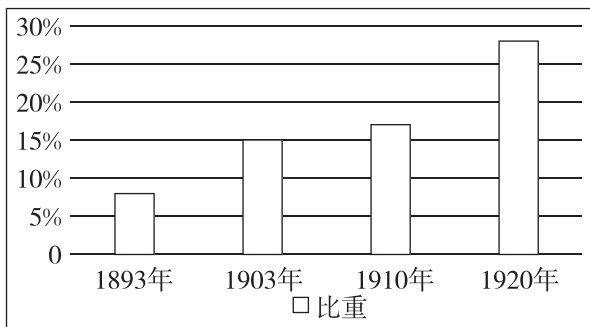
(2)根据材料二并结合所学,谈谈你对明代“服妖”的认识。(6分)

一、选择题

1. 1894年,《申报》报道:“屈指轮船招商局开办已二十年矣,长江大海往来运货约计每年二百万,统计中国之利少于洋船已四千万,其有因华轮彼此跌价,华商便宜之数尚不在内。然则今之时势商务能不讲求欤?所盼以后利日益进、弊日益除,为中国立商务不隳之基,此为首务也。”这反映出部分国人认识到 ()

- A. 洋务运动的局限性
- B. 求富强国的重要性
- C. 制度变革的紧迫性
- D. 社会转型的艰巨性

2. 下图所示为1893—1920年机器设备进口在整个中国进口总值中的比重变化情况。这一变化说明这一时期的中国 ()



- A. 民族工业生产能力有所发展
 - B. 轻重工业失衡局面得以改变
 - C. 日益成为列强的消费品市场
 - D. 对外贸易逆差局面日益扩大
3. 梁启超认为,兴民权、开民智最切要者莫过于“开官智”,他曾说:“绅权固当务之急矣,然他日办一切事,舍官莫属也。即今日欲开民智,开绅智,而假手于官力者,上不知凡几也,故开官智,又为万事之起点。”这一主张 ()
- A. 勇于突破君主体制束缚
 - B. 切实体现出资产阶级的民权民主思想
 - C. 旨在提高官员政治素养
 - D. 试图通过和平渐进方式实现政治变革
4. 《捉拿康梁二逆演义》成书于戊戌政变后不久,是以康梁为题材的时事小说。其时事来源,既有报刊转载的奏折、上谕等官书,也有当时的新闻报道,还有一些士大夫口耳之间流播的传闻,以及同时代的书信、笔记等私家材料。据此,理解准确的是 ()
- A. 该书是一手史料,史料价值高
 - B. 该书有艺术加工,史料价值低
 - C. 戊戌变法缺乏广泛的群众基础
 - D. 戊戌变法失败有其经济根源

5. 下图为1907年《人镜画报》刊发的一幅漫画。漫画中,四个幼稚园形象的小孩各自身上都有一件代表身份的物品,例如代表“政治”的小孩头上戴着一顶清政府的官帽,代表“军人”的小孩手里拿着一杆长枪。该漫画旨在 ()



- A. 揭露清廷预备立宪的虚伪性
 - B. 说明教育制度改革势在必行
 - C. 讽刺清末新政缺乏系统规划
 - D. 抨击保守势力阻挠政治改革
6. 1913年,《中国学会报》发文称:“革命乃吾中国最寻常之事。然革一朝之命可也,奈之何举中国数千年之命,而亦革之乎?今也教化革命,纪纲革命,道揆革命,法守革命,礼俗革命,人心革命,国魂革命,大火焚室,空空无依。”该史料可以用来说明 ()
- A. 北洋军阀政府的黑暗统治
 - B. 辛亥革命以失败而告终
 - C. 新文化运动爆发的必然性
 - D. 革命共和观念深入人心
7. 下图为1919年《晨报》“劳动节纪念”专号发表的头篇文章(节选)。该文章旨在 ()

人类在社会生活上有三大基本的权利:
 第一是生存权。第二是劳动权。第三是劳动全收权
 ……
 我们所生活的社会,能够保障这三种的权利,才算是完全的社会
 ……
 我们要得这三种的权利,非先改造完全的社会不可

- A. 推动人的解放与社会的进步
 - B. 倡导积极向上的劳动观念
 - C. 强调改造社会是生存的前提
 - D. 动员民众参加国民革命
8. 第一个五年计划期间,新中国进行了以156项工程为核心的工业化建设。其中西部地区工程占

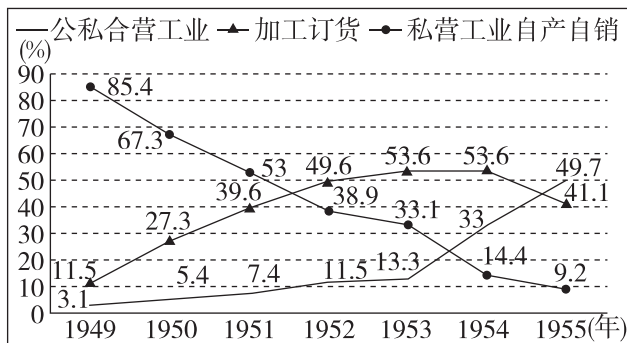
32%，东北地区占 37%，中部地区占 25%，东部地区占 6%。国防工业占 29%，煤炭行业占 17%，电力行业占 17%，钢铁、有色金属和化工行业占 17%，机械制造占 16%，其他占 4%。这一系列数据反映出（ ）

- ①轻重工业发展速度均衡 ②工业建设考虑到地域平衡 ③工业体系构建日益完备 ④多种所有制经济共同发展
- A. ①② B. ②③ C. ①④ D. ③④

9. 在中国共产党的某次会议公报决议中曾明确指出：毛泽东同志 1956 年总结我国经济建设经验的《论十大关系》报告中提出的基本方针，既是经济规律的客观反映，也是社会政治安定的重要保证……实践证明……按照客观经济规律办事，我们的国民经济就高速地、稳定地向前发展，反之，国民经济就发展缓慢甚至停滞倒退。此次会议的主要历史贡献是（ ）

- A. 开始探索适合中国国情的社会主义建设道路
B. 提出“调整、巩固、充实、提高”八字方针
C. 开启改革开放和社会主义现代化建设新时期
D. 明确改革目标是建立社会主义市场经济体制

10. 下图为中国 1949—1955 年间私营工业各产值所占比重变化情况统计(%)，据此得出的结论是（ ）



- A. 国家对国民经济的影响力增强
B. 国民经济成分构成趋向合理
C. 多种所有制经济形式并存的格局形成
D. 社会主义经济制度基本建立
11. 1956 年，毛泽东在论述未来国家工业化发展战略时提到：“如果没有足够的粮食和其他生活必需品，首先就不能养活工人，还谈什么发展重工业？所以，重工业和轻工业、农业的关系，必须处理好。”毛泽东这一主张（ ）
- A. 存在着“左”倾冒进的倾向
B. 注重工业结构调整
C. 基于对苏联模式的反思
D. 重视轻工业的发展

12. 下表是 1957 年、1972 年在广州举办的中国出口商品交易会(简称“广交会”)参会国家(地区)及客商简况表。这一变化反映了（ ）

时间	参会国家(地区)及客商
1957 年	19 个国家(地区)共 1223 人参会,其中港澳地区采购商 1021 人
1972 年	82 个国家(地区)共 14 598 位客商参会,日商到会踊跃

- A. 中国国际影响力的扩大
B. 世界多极化趋势加强
C. 全方位外交格局的形成
D. 中美建交的外溢效应

13. “1979 年，那是一个春天，有一位老人在中国的南海边画了一个圈。”1980 年，国家开始全面建设深圳、珠海、汕头、厦门 4 个经济特区，在经济特区实行特殊的经济政策、灵活的经济措施和特殊的经济管理体制，并坚持以外向型经济为发展目标。这一战略旨在（ ）

- A. 改变我国工业落后的面貌
B. 为全面建成小康社会努力
C. 释放社会经济发展活力
D. 适应社会主义新时代需要

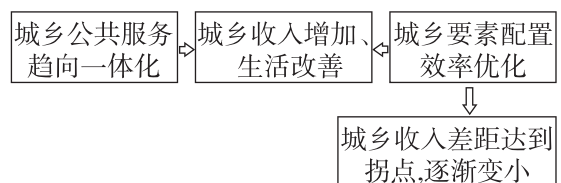
14. 1979 年 11 月 26 日，邓小平在会见美国和加拿大客人时说：“我们是计划经济为主，也结合市场经济，但这是社会主义的市场经济……不会影响整个社会主义，不会重新回到资本主义。”这一说法（ ）

- A. 摆脱了传统观念的束缚
B. 加速了城市经济体制改革步伐
C. 强调转变资源配置方式
D. 有利于减少改革起步时的阻力

15. 1998 年 7 月，国务院开展向部分国有重点企业派出稽查特派员的试点工作。稽查特派员的工作以财务监督为核心，不得干预企业经营。据此可知，稽查特派员制度（ ）

- A. 全面激活市场经济活力
B. 推动国有企业改革深化
C. 完善现代金融体制改革
D. 加强对企业生产的监管

16. 下图为 21 世纪以来有关城乡发展的示意图。图中所示现象主要缘于（ ）



- A. 国民经济的调整 B. 第三产业的兴起
C. 城乡地位的改变 D. 改革开放的深入

二、非选择题

17. (16分) 阅读材料, 完成下列要求。

材料一 1901—1911年中国铁路兴建概况(部分)

工程年份	经营类别	路名	起止地点	里程(千米)
1901—1904年	德国	胶济铁路	青岛—济南	394.1
1904—1906年	商办	潮汕铁路	潮州—汕头	39.0
1904—1907年	国营	正太铁路	石家庄—太原	243.0
1905—1908年	国营	沪宁铁路	上海—南京	311.0
1905—1909年	国营	京张铁路	北京—张家口	201.2
1906—1911年	国营	广九铁路	广州—深圳	143.3
1908—1911年	商办	南浔铁路	南昌—九江 (九江至德安段)	52.7
1909—1910年	法国	滇越铁路	昆明—河口	464.2
1910—1911年	国营	津浦铁路	天津—浦口 (南北分段通车)	1 009.5

——摘编自汪敬虞《中国近代经济史(1895—1927)》

材料二 到1978年年底, 我国铁路营业里程为5.2万千米。改革开放后, 我国铁路建设突飞猛进, 路网规模进一步扩大, 路网质量显著提升。到2018年年底, 我国铁路营业总里程达到13.2万千米, 较1949年增长5倍。2008年, 京津城际铁路通车运营, 标志着我国进入高铁时代。到2018年年底, 高铁营业里程3万千米, 是2008年的44.5倍。高铁营业里程超过世界高铁总里程的2/3, 居世界第一位。

——《辉煌70年——新中国经济社会发展成就(1949—2019)》

(1) 根据材料一并结合所学知识, 说明1901—1911年中国铁路修建的背景。(6分)

(2) 根据材料二并结合所学知识, 分析改革开放后中国铁路建设的特点和意义。(10分)

18. (12分) 阅读材料, 完成下列要求。

材料 中国现代化进程简表

项目	大致时间	阶段或进展	特点或成就
回顾	1840—1911年	清朝末年 现代化起步	工业化优先
	1912—1949年	民国时期 局部现代化	工业化优先
	1949—2018年	新中国全面 现代化	四个现代化、“三步走”发展战略、全国平均完成第一次现代化(达到发展中国家的中间水平)
	2018—2020年		全面建成小康社会
展望	2020—2050年	从初等发达国家升级为发达国家, 全面建成现代化强国	
	2050—2080年	从发达国家升级到世界前列, 全面实现现代化和伟大复兴	

——摘编自何传启《中国现代化报告2021》
提取材料信息并结合所学知识, 写一篇历史短文。
(要求: 主题明确, 史论结合, 逻辑严谨, 表述成文。)
(12分)